

30/04/2020




CALCUL MENTAL

Faire ajouter un nombre < 9 à une dizaine entière.
Ex : 70 + 5.
Écrire la somme.

53 28 37 45 69 72

1 Explique le jeu des fléchettes. Calcule le nombre de points obtenus par chaque enfant.

20 points 10 points 5 points



20 + 10 + 5 = 35

20 + 20 + 10 = 50

20 + 10 + 10 = 40

- Qui a obtenu le plus de points ? Zoé
- Range les enfants dans l'ordre des points obtenus.

1^{er} : Ali 2^e : Tom 3^e : Zoé

2 Entoure en vert le nombre le plus petit et en rouge le nombre le plus grand.

37 82 43 29 91

3 Compare en utilisant les signes <, > ou =.

72 > 51 46 = 40 + 6
35 < 58 60 + 3 > 30 + 6

4 Range les nombres, du plus petit au plus grand.

~~28~~ - ~~20~~ - ~~32~~ - ~~7~~ - ~~49~~ - ~~58~~ - ~~64~~ - ~~15~~

7 15 20 28 32 49 58 64

5 Écris, sur chaque bocal, le nombre qui convient.



59 62 46

Il y a autant de caramels que de sucettes.
Il y a moins de chocolats que de sucettes.
Il y a plus de bonbons que de caramels.

sucettes caramels chocolats bonbons