

Dire un nombre à deux chiffres ≤ 70 . Ex : 25
 Écrire la décomposition. Ex : $20 + 5$

$60 + 8$


$40 + 3$

$50 + 5$

$30 + 2$

7 Trace le chemin de la fourmi en suivant les consignes. Réponds à la question.

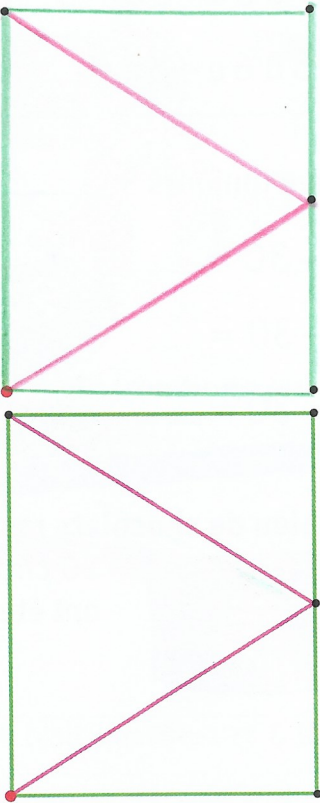
La fourmi se déplace de 6 carreaux vers la droite, puis de 3 carreaux vers le bas, puis de 6 carreaux vers la gauche, puis de 3 carreaux vers le haut.




• A-t-elle fait le tour d'un carré ou d'un rectangle ?

La fourmi a fait le tour d'un rectangle.

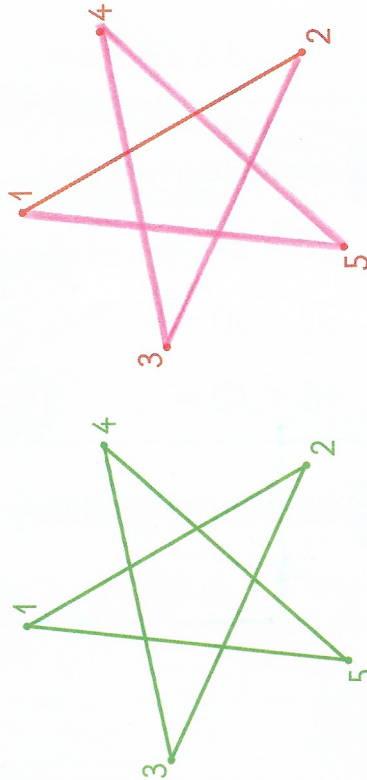
5 Observe et reproduis.



6 Relie les points pour tracer l'étoile.



Tu peux colorier l'étoile.



8 Termine la frise : trace et colorie.

