

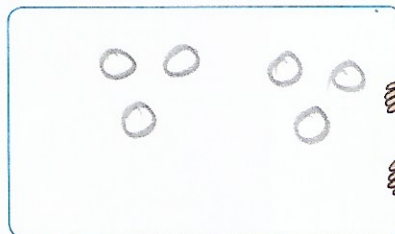



27/04/2020

CALCUL MENTAL

Demander de compter de 2 en 2
entre deux nombres impairs < 20.
Écrire la suite.

7 9 11 13 15 17 19

- 1 Jules et Mara se partagent 12 billes. Ils en prennent chacun le même nombre. Dessine la part de chacun.





Nous en avons
chacun la moitié.




La moitié de 12, c'est 6...

- 2 Les lapins prennent chacun le même nombre de carottes. Fais le partage puis complète.




La moitié de 10, c'est 5...

- 3 On met le même nombre de pommes dans chaque panier. Fais le partage puis complète.



La moitié de 8, c'est 4...

- 4 Écris le nombre de fraises pour chaque enfant. Ils en prennent chacun la moitié.



7

7

La moitié de 14, c'est 7...

- 5 Complète les phrases.

La moitié de 4, c'est 2... La moitié de 8, c'est 4... La moitié de 18, c'est 9...
La moitié de 2, c'est 1... La moitié de 16, c'est 8... La moitié de 6, c'est 3...