


CALCUL MENTAL

Problème : faire compléter à 10.
« Lou veut planter 10 rosiers ; elle en a planté 8.
Combien de rosiers doit-elle encore planter ? »




1 Calcule.

MATÉRIEL
CARTONNÉ



$$8 + 6 = 14$$



$$9 + 5 = 14$$

$6 + 5 = 11$

$7 + 6 = 13$

$9 + 7 = 16$

$7 + 5 = 12$

$7 + 8 = 15$

$8 + 9 = 17$

$8 + 5 = 13$

$7 + 9 = 16$

$9 + 6 = 15$

2 Observe l'exemple et continue.

$5 + 9 = 9 + 5 = 14$

$7 + 9 = 9 + 7 = 16$

$6 + 9 = 9 + 6 = 15$

$4 + 8 = 8 + 4 = 12$




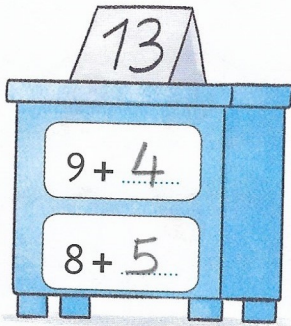
$5 + 8 = 8 + 5 = 13$

$6 + 8 = 8 + 6 = 14$

5 + 9
c'est pareil
que 9 + 5



3 Complète.



4 **PROBLÈME** Dans une salle, il y a 9 chaises. 14 enfants veulent s'asseoir.
Combien de chaises manque-t-il ?



$$9 + 5 = 14$$

Il manque 5 chaises