


Dans l'imprimerie


Retrouve chaque étape de la fabrication d'un journal, en sachant que A=Z, B=Y, C=X, D=W... Puis remets ces étapes dans l'ordre.



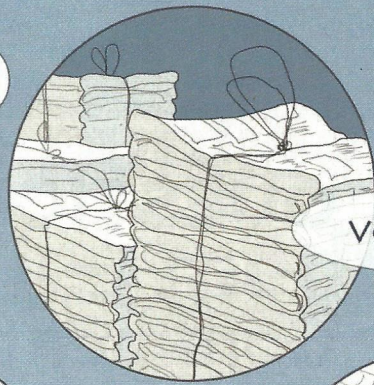
YLM Z GRIVI



KOZJFV LUUHV




NZJFVGGV



VCKVWRGRLM

Comment s'appelle l'immense machine permettant d'imprimer les journaux ? Pour le savoir, déplace-toi dans l'alphabet du nombre de lettre indiquées.

- J + 8 =
- O + 1 - 1 =
- U + 9 - 10 =
- R - 17 =
- N + 11 - 5 =
- A - 2 + 10 =
- U + 1 =
- X - 19 =



RNKIWHHRLM

1200	28	53	18	508	128	66	6
920	128	3	800	2000	900	920	47
412	612	528	850	10	44	128	66
47	528	412	28	6	412	710	508
66	2000	53	508	47	18	10	710
710	920	44	1200	28	612	3	850

Combien pèse une bobine de papier en moyenne ? La réponse est, en kilos, le seul nombre qui n'est pas en double ou en triple dans cette grille.